


1 C. Observa los patrones y menciona el que falta (4dif).



2C. Observe las ilustraciones y conteste las siguientes preguntas en forma oral. (6 dif).





Hacia dónde mira el elefante? (derecha o izquierda)

Qué hay a la izquierda de la pelota?

A la derecha de la niña hay una...?

Qué mano levanta la niña?

En la casilla debajo del tren hay un...?

En la casilla arriba de la estrella hay...?

3C. Observe las siguientes imágenes y responda correctamente. (4 dif).


La niña está delante o detrás del árbol.



La pelota está abajo o arriba del niño.







La flecha señala hacia la derecha o izquierda.




¿Cuál es el objeto liviano?





4C. Cuenta el número de elementos de cada conjunto (4 dif).

5C. Menciona los números que faltan para completar la secuencia (4 dif).



6C. Diga el color de las siguientes figuras geométricas (4 dif).



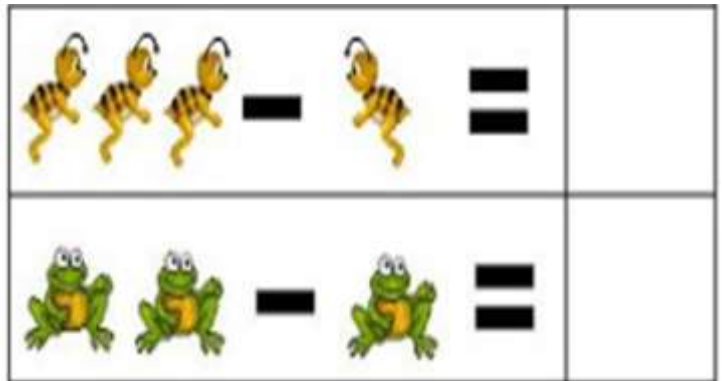
7C. Coloca el signo <, > o = en los siguientes números (4 d)



8C. Escribe el número que va antes y después. (4d)



9C Realiza las siguientes sumas y restas (4d)



10C. Escribe el número que corresponde en base 10 y en el ábaco. (2d)

