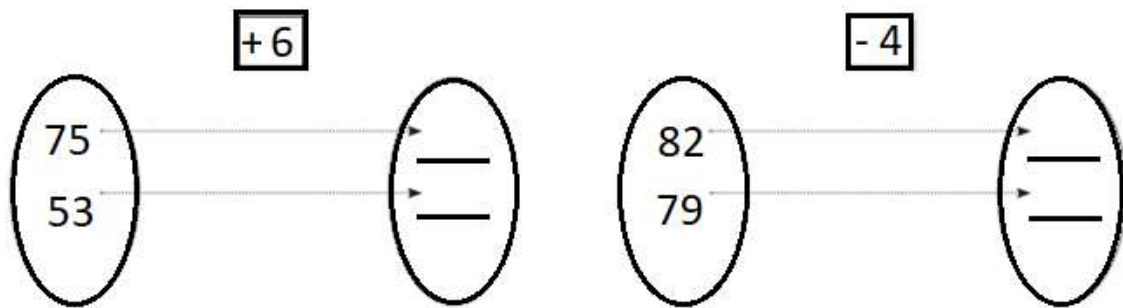


Subnivel/Nivel: Elemental	Asignaturas: Matemáticas	FILA: C
Año al que aspira: EDUCACIÓN GENERAL BÁSICA	BACHILLERATO GENERAL UNIFICADO	
1° <input type="checkbox"/> 2° <input type="checkbox"/> 3° <input type="checkbox"/> 4° <input checked="" type="checkbox"/> 5° <input type="checkbox"/> 6° <input type="checkbox"/> 7° <input type="checkbox"/> 8° <input type="checkbox"/> 9° <input type="checkbox"/> 10° <input type="checkbox"/>	1° <input type="checkbox"/> 2° <input type="checkbox"/> 3° <input type="checkbox"/>	
Docente que aplica:	Número de dificultades:	Período: ADMISIONES
Apellidos: _____	Nombres: _____	CALIFICACIÓN:
Fecha: ____ / ____ / 2020	TIEMPO: 60 MINUTOS	

1. Complete los elementos que faltan en la relación de correspondencia. (4 dificultades)



2. Observe cada pareja de números y completa con los signos >, < o =. (4 dificultades)

a. 522 ○ 782 b. 410 ○ 410

d. 930 ○ 645 e. 255 ○ 128

3. Escriba cómo se leen los números representados. (4 dificultades)

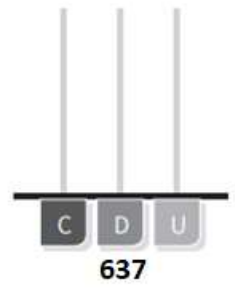
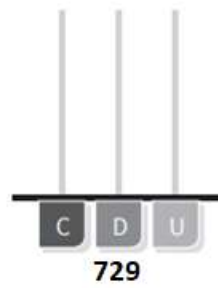


4. Ayude a Laura a resolver las siguientes sumas. Para ello, escriba en los espacios el número que corresponde. (5 dificultades).

$$\begin{array}{r} 293 \\ + 134 \\ \hline \square\square\square \end{array}$$

$$\begin{array}{r} \square 46 \\ + 281 \\ \hline 6\square 7 \end{array}$$



5. Represente los siguientes números en el ábaco. (4 dificultades).



6. Resuelva las siguientes sustracciones o restas: (3 dificultades)

C	D	U
7	9	1
-	1	5

C	D	U
8	4	5
-	0	3

C	D	U
6	3	6
-	3	1

7. Escribe una multiplicación que corresponda a cada resultado. (4 dificultades)

$$\begin{array}{r} \square \times \square \\ \hline 32 \end{array}$$

$$\begin{array}{r} \square \times \square \\ \hline 27 \end{array}$$

$$\begin{array}{r} \square \times \square \\ \hline 8 \end{array}$$

$$\begin{array}{r} \square \times \square \\ \hline 18 \end{array}$$

8. Marque el resultado de cada multiplicación. (4 dificultades)

8×2

16 26 36

3×9

27 37 47

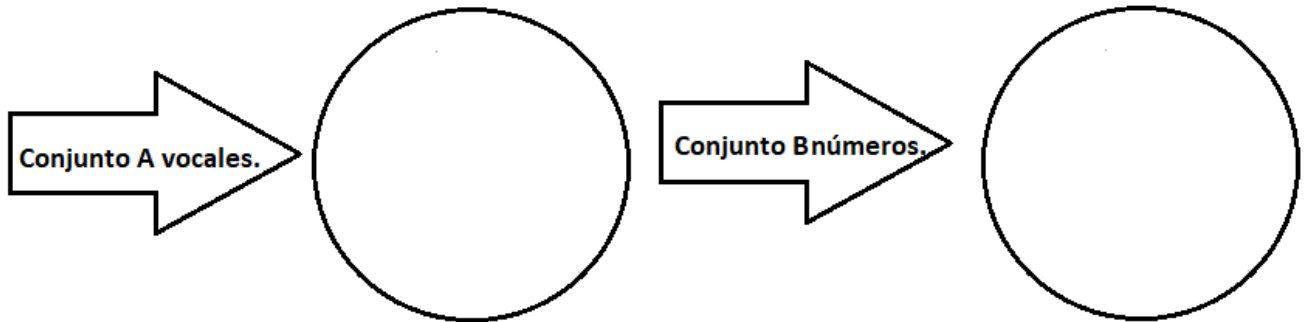
4×8

12 32 42

6×4

24 34 44

9. Dibuje 2 elementos de acuerdo a lo indicado en cada conjunto. (4 dificultades)



10. Observe y complete la siguiente tabla con el número antecesor y sucesor. (4 dificultades)

Antecesor	Número	Sucesor
	88	
	63	